


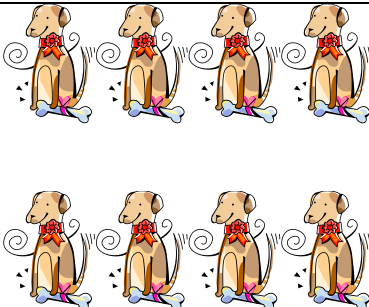



## Πώς τα πάμε με τον πολλαπλασιασμό;

Εικόνα	Μαθηματική πρόταση
	$2 \times 5 = 10$
	
	
	
	



Ας προχωρήσουμε σε μερικά προβλήματα.

Βάλε τα δυνατά σου!

1. Ο παππούς μοίρασε σοκολάτες στα 3 εγγονάκια του. Σε κάθε εγγονάκι έδωσε δύο σοκολάτες. Πόσες σοκολάτες πήρε το κάθε παιδί.

Κάνω σχέδιο:



Εξίσωση: \_\_\_\_\_

Απάντηση: \_\_\_\_\_.

2. Ο κύριος Γιάννης φύτεψε στο χωράφι του 2 σειρές δέντρα πορτοκαλιάς. Στην κάθε σειρά φύτεψε 5 πορτοκαλιές. Πόσες πορτοκαλιές φύτεψε στην κάθε σειρά;

Κάνω σχέδιο:



Εξίσωση: \_\_\_\_\_

Απάντηση: \_\_\_\_\_.