

ΕΝΟΤΗΤΑ 1 (επανάληψη)

Όνομα:.....

1. Συμπλήρωσε τα μοτίβα:

3,, 5,, 7,, 9,

2,, 6,, 10,,

0, 4,,,,

0,, 6, 9,,,

1,, 5, 7,,,

2. Συμπλήρωσε τις μαθηματικές προτάσεις:



$$\dots + \dots = \dots$$




$$\dots - \dots = \dots$$



$$\dots + \dots = \dots$$

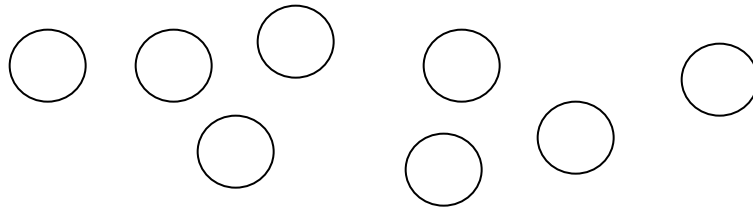
$$\dots \times \dots = \dots$$

3. Πόσα τετράγωνα πρέπει να σχεδιάσεις ακόμη για να γίνουν 8; ΑΠΑΝΤΗΣΗ:.....



4. Πόσα κουτιά θα χρειαστούν αν σε κάθε κουτί βάλουμε 2 μπάλες; ΑΠΑΝΤΗΣΗ:.....

.....



5. Η κυρία Μαρία έδωσε €9 στα 3 παιδιά της για να τα μοιραστούν στα ίσα. Πόσα θα πάρει το καθένα;

Απάντηση:

.....

6. Γράψε στο κάθε κουτάκι το κατάλληλο σύμβολο: +, -, X.

7 2 = 9 3 4 = 7 2 5 = 10

7 2 = 5 3 3 = 9 2 5 = 7





6 4 = 10 3 3 = 6 4 2 = 8

6 4 = 2 9 6 = 3 4 2 = 2

10. Συμπλήρωσε:

$2 \times 3 = \dots\dots$	$1 \times 4 = \dots\dots$	$2 + 4 = \dots\dots$	$3 + 4 = \dots\dots$
$2 \times 4 = \dots\dots$	$2 \times 2 = \dots\dots$	$2 + 7 = \dots\dots$	$3 \times 3 = \dots\dots$
$2 + 6 = \dots\dots$	$1 \times 5 = \dots\dots$	$1 \times 6 = \dots\dots$	$2 \times 1 = \dots\dots$
$1 \times 8 = \dots\dots$	$1 + 8 = \dots\dots$	$10 - 4 = \dots\dots$	$7 \times 1 = \dots\dots$
$2 \times 0 = \dots\dots$	$7 + 2 = \dots\dots$	$10 - 3 = \dots\dots$	$2 \times 2 = \dots\dots$
$2 \times 4 = \dots\dots$	$8 - 5 = \dots\dots$	$10 - 7 = \dots\dots$	$10 - 5 = \dots\dots$
$5 \times 1 = \dots\dots$	$5 \times 0 = \dots\dots$	$6 + 4 = \dots\dots$	$9 - 4 = \dots\dots$
$5 + 2 = \dots\dots$	$5 - 2 = \dots\dots$	$7 + 3 = \dots\dots$	$8 - 3 = \dots\dots$
$0 \times 9 = \dots\dots$	$6 - 4 = \dots\dots$	$4 \times 2 = \dots\dots$	$2 + 6 = \dots\dots$
$4 + 4 = \dots\dots$	$6 + 3 = \dots\dots$	$3 + 6 = \dots\dots$	$3 + 4 = \dots\dots$

11. Η γραφική παράσταση δείχνει τα παιχνίδια που αγόρασε η κυρία Άννα για τα παιδιά της. Κάθε κουτάκι συμβολίζει ένα παιχνίδι.

μπάλες				
βάρκες				
αυτοκινητάκια				
τρένο				

Α. Συμπλήρωσε τον πίνακα για να δείξεις πόσα παιχνίδια αγόρασε η κυρία Μαρία:

μπάλες	βάρκες	αυτοκινητάκια	τρένο

Β. Αν κάθε αυτοκινητάκι στοίχιζε €2, πόσα πλήρωσε για όλα τα αυτοκινητάκια η κυρία Μαρία;

.....

Γ. Αν κάθε βάρκα στοίχιζε €1, πόσα πλήρωσε για όλες τις βάρκες

.....

Δ. Αν τα τρενάκια μοιραστούν στα ίσα σε 3 παιδιά πόσα θα πάρει το κάθε παιδί;

.....

Ε. Αν κάθε μπάλα στοίχιζε €3, πόσα πλήρωσε για όλες τις μπάλες;

.....



ΚΑΛΗ ΜΕΛΕΤΗ
ΦΙΛΑΡΑΚΙΑ
ΜΟΥ!!!