



ΜΑΘΗΜΑΤΙΚΑ Β' ΤΑΞΗΣ

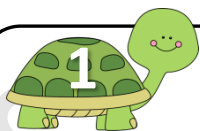
ΟΝΟΜΑ:.....



ΕΝΟΤΗΤΑ 1η

1. ΤΙ ΕΜΑΘΑ ΣΤΗΝ Α' ΤΑΞΗ

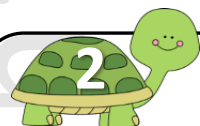
© stintaxi.com



Παρατήρησε προσεκτικά την εικόνα και προσπάθησε να απαντήσεις στις ερωτήσεις:




- Πόσα είναι τα παιδιά που βρίσκονται μέσα στη θάλασσα;
- Πόσα είναι τα παιδιά που βρίσκονται στην παραλία;
- Πόσα είναι όλα τα παιδιά;
- Αν έρθουν ακόμα 4 παιδιά, πόσα θα είναι όλα μαζί;
- Αν υπήρχαν ακόμα 3 σωσίβια, πόσα παιδιά θα μπορούσαν να κολυμπήσουν συνολικά;



Μπορείς να συμπληρώσεις τους αριθμούς που λείπουν από τον πίνακα;


1	2	3				7			10
11					16				
								39	
	42								
									70
						77			
			94						

www.stintaxi.com



Το βατραχάκι πηδάει στους αριθμούς ανά δύο. Μπορείς να γράψεις στις τελίτσες τους αριθμούς που φτάνει κάθε φορά;

0 2 4
 12 14
 22
 32



Ένωσε τις τελίτσες για να ολοκληρωθούν οι εικόνες (αν θέλεις, μπορείς έπειτα να τις ζωγραφίσεις):

Από το 1 ως το 50 (ανά ένα)

Από το 5 ως το 100 (ανά πέντε)